

2022年度 樟蔭高等学校 入学試験 問題用紙 【社会】

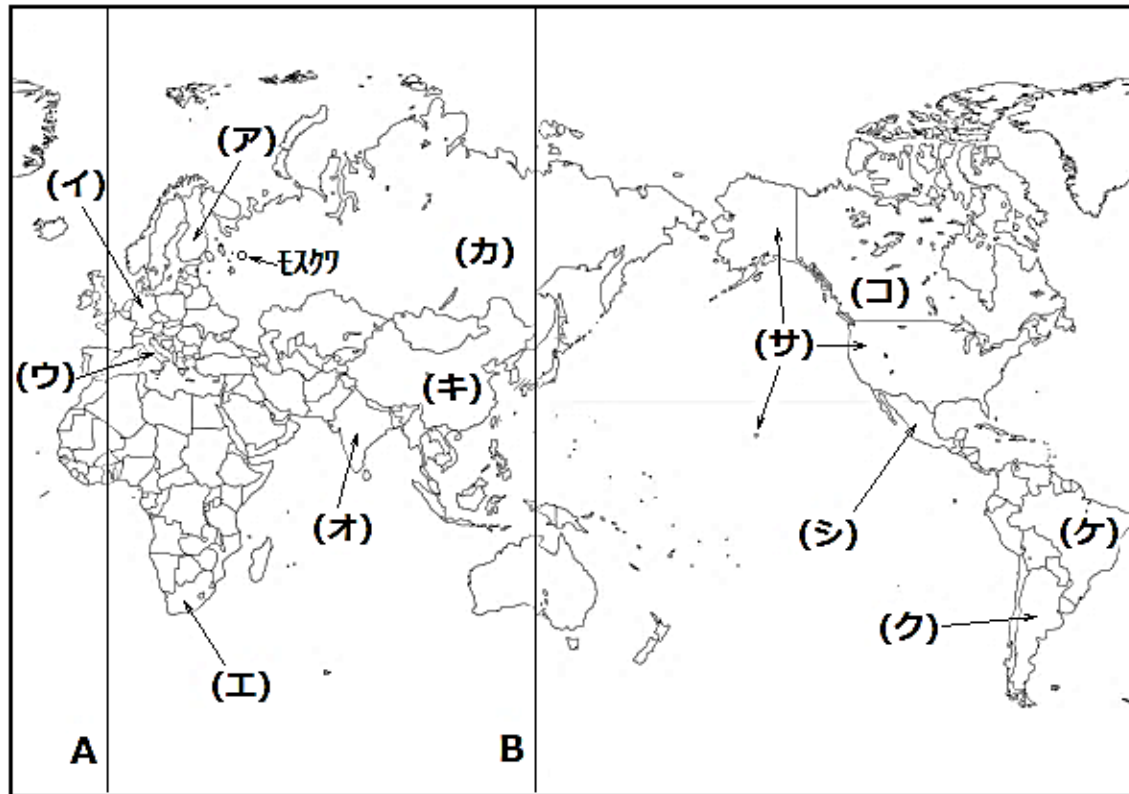
2022年2月10日 実施

解答は解答用紙の所定の欄に記入すること。

[4枚のうち その1]

【1】 次の資料は、2019年から2021年にかけて発生した世界の異常気象をまとめている。これについて、後の問に答えよ。

発生時期	内容
2019年2月	①カナダから北米に寒波
2019年10月	②インド中部に大雨
2020年7～8月	③中国の長江中・下流域で大雨
2021年6月	④アメリカ南西部の少雨と高温で47.8℃を計測
2021年7月	北半球(ヨーロッパ～⑤ロシア～カナダ～アメリカ)の高温
2021年7月	ヨーロッパ中部(⑥ドイツやベルギー)の洪水で死者
2021年8月	ヨーロッパ南部(⑦イタリア)の高温で48.8℃を計測

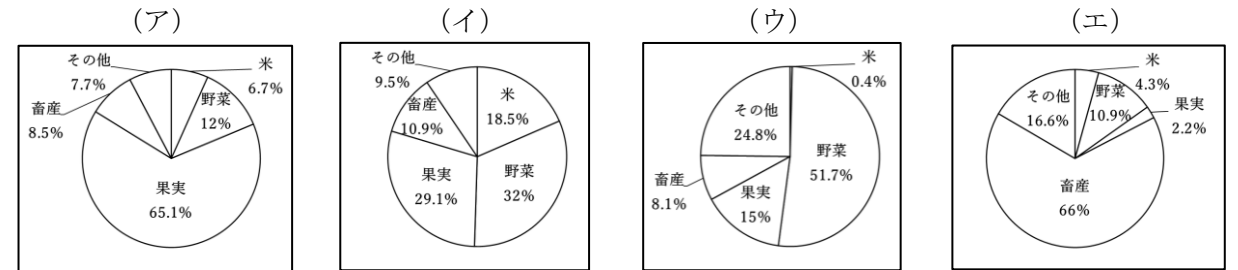


【2】 次の文を読み、後の問に答えよ。

2021年7月に「奄美大島・徳之島、沖縄島北部及び西表島」(⑧鹿児島県・沖縄県)が日本の世界自然遺産として新たに登録された。この地域は、北緯24～30度に位置しているが、⑨黒潮と亜熱帯高気圧の影響で温暖な気候となるため、豊かな自然環境を作り出している。この他にも、日本では⑩「知床」「白神山地」「小笠原諸島」「屋久島」が世界自然遺産に登録されている。

問1 下線部⑧について、次の問に答えよ。

(1) 鹿児島県の農業産出額割合のグラフを、次の(ア)～(エ)から一つ記号で選べ。

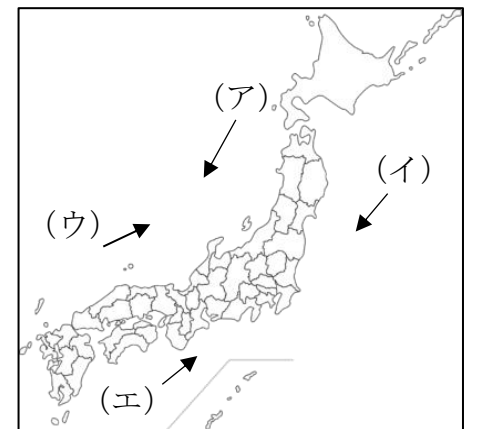


(2) 沖縄県の説明について適切なものを、次の(ア)～(エ)から一つ記号で選べ。

- (ア) 観光資源が多いため、観光業を中心に、第一次産業に従事する人の割合が高い。
- (イ) 火山灰が厚く積もったシラス台地がみられる。
- (ウ) 島の周辺には、さんご礁が多くみられ、豊かな漁場となっている。
- (エ) 暖かい気候を生かした農業が行われ、小麦や大豆の生産量が多い。

問2 下線部⑨の海流が流れている位置を、

右の図の(ア)～(エ)から一つ記号で選べ。



問3 下線部⑩が属する都道府県について、次の問に答えよ。

(1) この都道府県の説明について適切なものを、次の(ア)～(エ)から一つ記号で選べ。

- (ア) 日本で3番目に長い石狩川が流れる石狩平野があり、広大な稲作地帯である。
- (イ) 西陣織など伝統工芸品の生産が盛んに行われている。
- (ウ) 臨海部では、海を埋め立てて鉄鋼や石油化学などの重化学工業が中心に行われている。
- (エ) 高緯度地域だが、本州と同じ温帯気候である。

問1 資料中の下線部①～⑦の国の位置を、上の地図の(ア)～(シ)からそれぞれ記号で選べ。

問2 地図中Aの線は、イギリスのロンドンを通る0度の経線である。これを何というか。

問3 地図中Bの線は、東経135度の経線である。これを何というか。

問4 モスクワ周辺と日本の時差について、適切なものを次の(ア)～(エ)から一つ記号で選べ。

ただし、モスクワ周辺の標準時は東経45度として計算している。

(ア) 日本が1月1日の午前9時の時、モスクワは1月1日の午前3時である。

(イ) 日本が1月1日の午前9時の時、モスクワは1月1日の午後3時である。

(2) この都道府県で盛んに行われていた、オホーツク海や北太平洋地域における遠洋漁業を何と

いうか。

2022年度 樟蔭高等学校 入学試験 問題用紙 【社会】

2022年2月10日 実施

解答は解答用紙の所定の欄に記入すること。

[4枚のうち その2]

【3】 次の [I] ~ [III] の文を読み、後の問に答えよ。

[I] この地域は植民地として支配を受けていたが、1775年に13の植民地が(1)を総司令官として独立戦争をおこし、翌年に⑧独立宣言を発表した。世界初の大統領制をもつ国として成立し、三権の分立などを定めた憲法が近代の民主的憲法のモデルとなった。一方で、依然として奴隷制が続いており、大陸東部の13州だけを領土とする国であった。

[II] この国では、17世紀になると豊かな地主や商工業者が議会を足場にして政治の発言力を増した。彼らは国教会の改革を求めるとともに国王の政治に反対し、(2)を指導者にして国王の軍を破り、1649年に共和政を樹立した。その後復活した王政では、再び国王が力を強めたため、1688年から89年の革命により、議会を尊重する国王が新たに選ばれ⑨新たな法律が公布された。

[III] この国では17世紀後半から、⑩国王が政治権力のすべてをにぎり、議会を開かずに国を治めていた。18世紀に、平民の代表によってつくられた国民議会と国王が対立したことが引き金となり、革命が起こった。⑪この革命で発表された宣言は、個人の権利や市民社会の政治の重要な原則を示し、後の世界に大きな影響を与えた。

問1 (1)・(2)にあてはまる人物を、次の(ア)~(カ)からそれぞれ記号で選べ。

- (ア) リンカーン (イ) ナポレオン (ウ) クロムウェル
(エ) ワシントン (オ) ルイ14世 (カ) モンテスキュー

問2 下線部⑧のような政治体制を何というか。

問3 [I] ~ [III] にあてはまる国名の組み合わせを、次の(ア)~(エ)から一つ記号で選べ。

- (ア) [I] アメリカ [II] フランス [III] イギリス
(イ) [I] アメリカ [II] イギリス [III] フランス
(ウ) [I] イギリス [II] フランス [III] アメリカ
(エ) [I] イギリス [II] アメリカ [III] フランス

問4 波線部⑩~⑪について、次の問に答えよ。

- (1) ⑨の法律を何というか。
(2) ⑪の宣言を何というか。
(3) ⑩~⑪の内容として適切な史料(一部の要約)を、次の(ア)~(ウ)からそれぞれ記号で選べ。

- (ア) 第1条 人は生まれながらにして、自由で平等な権利を持つ。
第2条 あらゆる政治的な団結の目的は、自由、所有、安全および王政への抵抗の権利を保全することである。
第3条 あらゆる主権の根源は、本来的に国民にある。

- (イ) われらは、次の事項を自明の真理であると信じる。(すなわち) すべての人は平等につくられ、造物主によって一定の奪うことのできない権利を与えられ、その中には生命、自由および幸福の追求が含まれる。また、これらの権利を保障するために、人々の間に政府が組織され、その権力の正統性は人々の同意に由来する。

- (ウ) 第1条 議会の同意なしに、国王の権限によって法律とその効力を停止することは違法である。
第4条 国王大権と称して、議会の承認なく、国王の使用のために税金を課すことは、違法である。

【4】 次の文を読み、後の問に答えよ。

東日本大震災から10年が経過した。東北地方は冬になると深い雪に覆われ、かつては不便な土地と見られていた。一方でその地域ならではの歴史や文化が存在している。

⑫縄文時代から青森県にある(1)のような集合住居と考えられる竪穴住居群がみられ、人々が集団で暮らしていたことがうかがえる。

⑬平安時代には、蝦夷を征討するために(2)が征夷大将軍に任命され、蝦夷の族長アテルイを討伐した。また、この時期には奥州藤原氏も発展し、平泉文化の代表的な建築物である(3)が建立された。

⑭室町時代には、アイヌ民族との交易がおこなわれた。しかしアイヌの人々の生活は次第に圧迫され、15世紀の中頃(4)を指導者とした反乱がおこった。

江戸時代、⑮寛政の改革の頃になると、財政難を切り抜けるために多くの藩が藩政改革に取り組んだ。特に18世紀後半、(5)藩の上杉鷹山(治憲)は藩政改革に乗り出し、儉約令を出して、穀物を蓄えるなどした。

問1 下線部⑫の説明について適切なものを、次の(ア)~(エ)から一つ記号で選べ。

- (ア) 人々は石を打ち欠いた打製石器をつくることを覚え、それを使って動物を狩っていた。
(イ) 火を使い寒さから身を守ることなどを覚え、互いに助け合い暮らすうちに言葉も発達させた。
(ウ) 稲作が広まり、土器や金属器を使うようになった。
(エ) アニミズムという考え方の広まりとともに、人間を模した土偶などが作られるようになった。

問2 (1)にあてはまる語句を、次の(ア)~(エ)から一つ記号で選べ。

- (ア) 三内丸山遺跡 (イ) 荒神谷遺跡 (ウ) 岩宿遺跡 (エ) 吉野ケ里遺跡

問3 下線部⑬について、平清盛が権力をもつきっかけとなった1159年の争いを何というか。

問4 (2)にあてはまる人物を答えよ。

問5 (3)にあてはまる語句を、次の(ア)~(エ)から一つ記号で選べ。

- (ア) 平等院鳳凰堂 (イ) 中尊寺金色堂 (ウ) 厳島神社 (エ) 東大寺南大門

問6 下線部⑭の説明について適切なものを、次の(ア)~(エ)から一つ記号で選べ。

- (ア) 明とのあいだで、勘合という合札を用いて貿易をおこなっていた。
(イ) 日本で初めての土一揆がおこり、土倉や酒屋、寺院などが襲われた。
(ウ) 東山文化が成立し、銀閣が建立されたり、水墨画が描かれたりした。
(エ) 幕府を倒そうとした後鳥羽上皇による承久の乱がおこった。

問7 (4)にあてはまる人物を答えよ。

問8 下線部⑮について、この改革の主導者であった老中は誰か。

問9 (5)にあてはまる語句を、次の(ア)~(エ)から一つ記号で選べ。

2022年度 樟蔭高等学校 入学試験 問題用紙 【社会】

2022年2月10日 実施

解答は解答用紙の所定の欄に記入すること。

[4枚のうち その3]

【5】 次の史料を見て、後の問に答えよ。

石炭をば早や積み果てつ。中等室の卓のほとりはいと静にて、(注1)熾熱燈の光の晴れがましきも徒なり。今宵は夜毎にこゝに集ひ来る(注2)骨牌仲間も「ホテル」に宿りて、舟に残れるは余一人のみなれば。……

注1・・・白熱電灯のこと

注2・・・トランプのこと

出典『舞姫』

問1 この史料の著者は誰か。次の(ア)～(エ)から一つ記号で選べ。

(ア) 正岡子規 (イ) 尾崎紅葉 (ウ) 与謝野晶子 (エ) 森鷗外

問2 この史料の著者と同じ時期に活躍した『坊ちゃん』などで有名な小説家は誰か。次の(ア)～(エ)から一つ記号で選べ。

(ア) 芥川龍之介 (イ) 太宰治 (ウ) 夏目漱石 (エ) 武者小路実篤

問3 下線部について、石炭をエネルギーとした蒸気機関車が走る鉄道が明治になって初めて日本に開通した。どこからどこまでの開通であったか。次の(ア)～(エ)から一つ記号で選べ。

(ア) 新橋～横浜 (イ) 新橋～神戸 (ウ) 横浜～大阪 (エ) 横浜～神戸

問4 この史料には、「熾熱燈」「骨牌」「ホテル」など西洋から新しく入ってきたものが描かれている。明治時代になって西洋文明を取り入れた風潮を何というか。

問5 明治時代、言文一致を進め、小説で口語表現を使用するきっかけをつくった人物は誰か。次の(ア)～(エ)から一つ記号で選べ。

(ア) 坪内逍遙 (イ) 高峰譲吉 (ウ) 二葉亭四迷 (エ) 滝廉太郎

問6 明治時代に関わるできごととして適切なものを、次の(ア)～(エ)から一つ記号で選べ。

(ア) 学制が制定され、小学校が各地に建設された。

(イ) 米の安売りを求める米騒動が全国に広まった。

(ウ) 日本が中国に対し、二十一か条の要求を迫った。

(エ) 盧溝橋事件がきっかけとなり、日中戦争がはじまった。

【6】 次のA～Cの写真を見て、後の問に答えよ。



A



B



C

問1 写真Aの彫刻作品『老猿』の作者は誰か。次の(ア)～(エ)から一つ記号で選べ。

(ア) 菱田春草 (イ) 高村光雲 (ウ) 黒田清輝 (エ) 荻原守衛

問2 写真Bの絵画『無我』の作者は誰か。

問3 明治期に日本美術の復興に努めた人物には、フェノロサと誰がいたか。次の(ア)～(エ)から一つ記号で選べ。

(ア) 岡倉天心 (イ) 山田耕筰 (ウ) 狩野芳崖 (エ) 岸田劉生

問4 明治期の文化では、優れた科学者が多く現れた。その中で細菌学の分野で多大な功績を上げ、破傷風菌の純粋培養やペスト菌の発見をした科学者は誰か。次の(ア)～(エ)から一つ記号で選べ。

(ア) 野口英世 (イ) 志賀潔 (ウ) 北里柴三郎 (エ) 鈴木梅太郎

問5 写真Cの雑誌は、女性による婦人月刊誌である。創刊の中心となったのは誰か、次の(ア)～(エ)から一つ記号で選べ。

(ア) 平塚らいてう (イ) 樋口一葉 (ウ) 津田梅子 (エ) 山川捨松

問6 第一次世界大戦後、日本国内では普通選挙を実現させようとする運動が高まった。1925年に、普通選挙法が成立した時の内閣総理大臣は誰か。次の(ア)～(エ)から一つ記号で選べ。

(ア) 山県有朋 (イ) 大隈重信 (ウ) 原敬 (エ) 加藤高明

問7 大正期の文化に関わるできごととして適切なものを、次の(ア)～(エ)から一つ記号で選べ。

(ア) 初めて東京でオリンピックが開催された。

(イ) ラジオ放送が開始された。

(ウ) 白黒のテレビ放送が開始された。

(エ) 西洋の技術を取り入れた富岡製糸場が設立された。

2022年度 樟蔭高等学校 入学試験 問題用紙 【社会】

2022年2月10日 実施

解答は解答用紙の所定の欄に記入すること。

[4枚のうち その4]

【7】 次の文を読み、後の問に答えよ。

世界にはたくさんの民族がいて、①多様な文化が共存している。その一つに、Aのアボリジニの文化がある。アボリジニは、ヨーロッパの人々がAに行くようになってから、人口が大きく減ったと②小学校の歴史の授業で教わった。また、その後は罪人を送る流刑地として用いられたとも教わった。

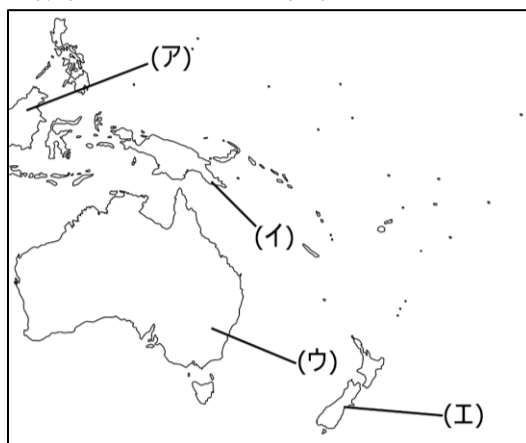
昔に比べれば良くなっているものの、世界には未だに異なる③人種への差別がある。そんな世の中に大切なのは、④違いを一つの個性として認めることだと思う。お互いに思いやりの気持ちを持って接した時、その違いは世界に彩りを与えるものになるのではないだろうか。

問1 下線部①について、国の方針として多文化主義を掲げている国はどこか。次の(ア)～(エ)から一つ記号で選べ。

- (ア) 中国 (イ) 南アフリカ共和国 (ウ) カナダ (エ) ブラジル

問2 Aについて、次の問に答えよ。

- (1) Aにあてはまる国名を答えよ。
 (2) Aの位置を、右の地図の(ア)～(エ)から一つ記号で選べ。



問3 下線部②は、いわゆる義務教育課程で設置されるものである。保護する子女に普通教育を受けさせることは国民の義務であるが、他の2つの国民の義務を答えよ。

問4 下線部③について、1990年代まで人種隔離政策を実施していた国はどこか。次の(ア)～(エ)から一つ記号で選べ。

- (ア) 中国 (イ) 南アフリカ共和国 (ウ) カナダ (エ) ブラジル

問5 下線部④に関連して、近年では性別においても多様性を認める動きが広まっている。パスポートの性別欄に男女以外の第三の選択肢を「X」とし、発行している国として適切でないものを、次の(ア)～(エ)から一つ記号で選べ。

- (ア) 中国 (イ) アメリカ (ウ) ドイツ (エ) デンマーク

【8】 次の問に答えよ。

問1 衆議院議員総選挙と併せて行われる、最高裁判所の裁判官の罷免を判断する制度を何というか。

問2 裁判所が有している「議会や行政が憲法に違反していないかを判断する権利」を何というか。

問3 右の表を参考にして、参政権に関する説明として適切なものを、次の(ア)～(エ)から一つ記号で選べ。

選挙区	有権者数(人)	格差(倍)
東京13区	482,445	2.086
東京10区	482,214	2.085
東京9区	480,926	2.079
東京22区	480,847	2.079
東京8区	479,076	2.071
鳥取1区	231,313	1.000

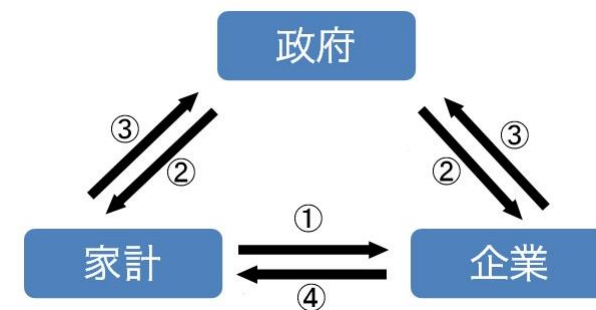
(2021年衆議院議員総選挙結果)

- (ア) 有権者数に関わらず、1票の価値は平等であることが保障されている。
 (イ) 有権者数が多い選挙区ほど、1票の価値が重くなっている。
 (ウ) 鳥取1区と東京の選挙区を比べた場合、有権者数は鳥取1区の方が少ないが、1票の価値は東京の方が重い。
 (エ) 鳥取1区と東京の選挙区を比べた場合、有権者数は東京の方が多いが、1票の価値は鳥取の方が重い。

問4 2022年現在の内閣総理大臣は誰か。次の(ア)～(エ)から一つ記号で選べ。

- (ア) 菅義偉 (イ) 安倍晋三 (ウ) 岸田文雄 (エ) 小泉進次郎

問5 右の図について、①～④にあてはまる語句を、次の(ア)～(エ)からそれぞれ記号で選べ。



- (ア) 商品・サービス (イ) 公共サービス (ウ) 税金 (エ) 代金・料金