

2023年度 樟蔭高等学校 入学試験 問題用紙 【社会】

2023年2月10日 実施

解答は解答用紙の所定の欄に記入すること。

[4枚のうち その1]

【1】 次の地図を見て、後の問に答えよ。

問1 地図中 A は、かつてオリンピックが開かれたこともある国であり、闘牛などの行事で有名である。この A と隣国のポルトガルを含んだ部分の半島名を答えよ。

問2 地図中 B は、混合農業がさかんな国である。電力では原子力発電に依存する割合が他国より大きく、ワインの輸出国としても知られる。B の首都名を答えよ。

問3 地図中 C は、第二次世界大戦後東西に分裂して独立し、1990年に統一された。EU の中でも中心的な国であり、外国人労働者の多くを受け入れてきた。C の国名を答えよ。

問4 地図中 C が最も多く外国人労働者を受け入れている国はどこか。以下の語群から一つ記号で選べ。

- (ア) トルコ (イ) スウェーデン
- (ウ) ノルウェー (エ) アイルランド

問5 地図中 D は、昨年2月末に地図中 E から攻撃を受けた。この国は小麦の生産量の多い国であった。D の国名を答えよ。

問6 地図中 E は世界一大きな面積を持つ国である。D へ侵攻し、戦争を始めたこの国の現在の大統領は誰か。

問7 地図中 F は、地図中 E と約 1300 km にわたって国境を接している。F の国名を答えよ。

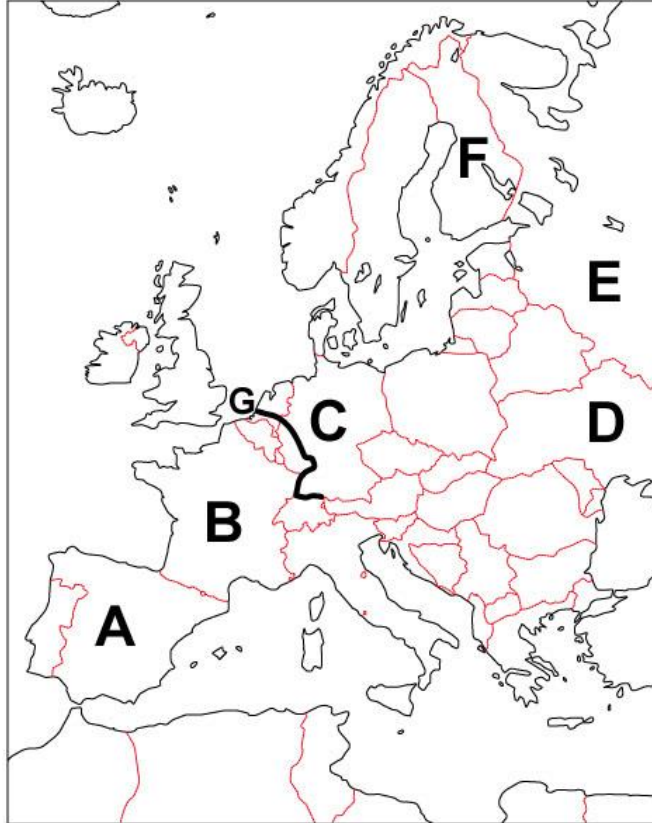
問8 地図中 G は、国際河川である。この河川名を答えよ。

問9 2002年、EU の多くの国で何とよばれる単一通貨が流通し始めたか。

問10 2022年時点での EU の加盟国数は何か国か。以下の語群から一つ記号で選べ。

- (ア) 18か国 (イ) 25か国 (ウ) 27か国 (エ) 31か国

問11 工場や自動車から排出された硫黄酸化物や窒素酸化物が原因となる酸性雨は、ヨーロッパ上空を吹く何という風に乗って、遠く離れた地域にまで環境問題を引き起こしているか。



【2】 次の年表を見て、後の問に答えよ。

西暦	日本のできごと	海外のできごと
587年	蘇我馬子が (A) 氏をほろぼす	この頃、(B) が中国を統一
603年	(C) が制定された	
604年	(D) が制定された	
607年	小野妹子を (B) に派遣	
(E) 年	蘇我入鹿・蝦夷が暗殺される	
672年	(F) が起こる	この頃、(G) が朝鮮半島を統一
694年	(H) へ遷都する	
(I) 年	大宝律令が完成する	
708年	<u>(a)和同開珎</u> を铸造する	
710年	(J) へ遷都する	
743年	<u>(b)大仏造立の詔</u> を出す	
752年	(K) 大仏開眼供養	この頃、僧の <u>(c)鑑真</u> が来日する
784年	(L) へ遷都する	

問1 年表中の (A) にあてはまる氏族は何か。

問2 年表中の (B) にあてはまる国名を答えよ。

問3 年表中の (C) と (D) にあてはまる語句をそれぞれ答えよ。

問4 年表中の (E) と (I) にあてはまる数字を答えよ。

問5 年表中の (F) にあてはまる皇位をめぐる反乱を何というか。

問6 年表中の (F) に敗北した皇子は誰か。

問7 年表中の (G) にあてはまる国名を答えよ。

問8 年表中の下線部(a)について、この貨幣以前に天武天皇時代に铸造された貨幣を何というか。

問9 年表中の (H)、(J)、(L) にあてはまる都の順番のうち、正しいものを一つ記号で選べ。

(ア) H: 平城京 → J: 平安京 → L: 長岡京

(イ) H: 平城京 → J: 長岡京 → L: 平安京

(ウ) H: 藤原京 → J: 平城京 → L: 長岡京

(エ) H: 藤原京 → J: 平城京 → L: 平安京

問10 年表中の下線部(b)について、この詔を出した天皇は誰か。以下の語群から一つ記号で選べ。

(ア) 推古天皇 (イ) 持統天皇 (ウ) 元明天皇 (エ) 聖武天皇

問11 年表中の下線部(c)について、この僧が建立した寺院名を以下の語群から一つ記号で選べ。

(ア) 唐招提寺 (イ) 法隆寺 (ウ) 飛鳥寺 (エ) 四天王寺

問12 年表中の (K) にあてはまる寺院名を以下の語群から一つ記号で選べ。

(ア) 興福寺 (イ) 東大寺 (ウ) 薬師寺 (エ) 大安寺

2023年度 樟蔭高等学校 入学試験 問題用紙 【社会】

2023年2月10日 実施

解答は解答用紙の所定の欄に記入すること。

[4枚のうち その2]

【3】 次の史料を読み、後の問に答えよ。史料に関しては、一部書き改めたところがある。

「第三条

一、諸国守護人奉行の事

右、(a)右大将家の御時定め置かるる所は、大番催促・謀反・殺害人付けたり、夜討、強盗、山賊、海賊等の事なり。しかるを近年に至りては代官を郡郷に分補し、公事を庄保に宛て課せ、国司に非ずして国務を妨げ、(b)地頭に非ずして地利を貪る。所行の企、甚だ以て無道なり。……」

《訳文》

第3条：「守護の仕事について」

初代将軍が決められて以来、守護の仕事は、大番催促（おおばんさいそく）と、謀反人と、殺人犯の取りしまりである。さらに、夜討ち、強盗、山賊、海賊などの取り締まりもある。守護の中には代官を村々に送り勝手に村人を思うままに使ったり、税を集めたりする者もいる。また国司でもないのに地方を支配し、地頭でもないのに税をとったりする者がいる。それらは全て違法の行いである。……

問1 この史料は1232年に制定された。何と呼ばれるか。

問2 史料中の下線部(a)は誰のことを指すか。以下の語群から一つ記号で選べ。

(ア) 源義朝 (イ) 源頼朝 (ウ) 源頼家 (エ) 源実朝

問3 この史料は後の時代に引き継がれ、武家法の基本となった。制定した当時の執権は誰か。

問4 史料中の下線部(b)について、守護と地頭が全国に置かれたのは何年のことか。以下の語群から一つ記号で選べ。

(ア) 1159年 (イ) 1177年 (ウ) 1185年 (エ) 1192年

問5 この史料から読み取れる内容として、正しいものを以下の(ア)～(エ)の文から一つ記号で選べ。

(ア) この史料では、守護に承久の乱に備え、朝廷側につく謀反人や山賊、海賊を取りしまるよう指示している。

(イ) この史料では、国司が守護の仕事を手を離していることを問題として取り上げている。

(ウ) この史料では、守護が地頭でないのに許可なく税金を取り立てていることを問題視している。

(エ) この史料では、地頭が守護や国司の国務の妨げとなっていると述べている。

問6 次のできごとのうち、13世紀のできごとでないものを、以下の(ア)～(エ)の文から一つ記号で選べ。

(ア) モンゴル軍が九州に上陸し、御家人たちは二度その襲来を防ぐことに成功した。

(イ) 源氏の将軍が3代目で途絶え、以後は、公家や皇室から将軍を迎えるようになった。

(ウ) モンゴル軍襲来後の御家人の窮乏が問題となっていたため、幕府は永仁の徳政令を出した。

(エ) 天皇中心の政治へと戻そうしたが、武家への恩賞を十分に行わなかったことなどが原因となり、その政権は崩壊した。

【4】 次の幕末から明治時代にかけての三つの写真を見て、後の問に答えよ。



A



B



C

問1 1853年に浦賀に来航したアメリカ人は誰か。

問2 諸外国と結んだ通商条約により、各国との貿易が始まった。開国直後の日本の状況をあらわした正しい文を、以下の(ア)～(エ)の文から一つ記号で選べ。

(ア) イギリスとの貿易額が最も多くなり、日本からは生糸が主な輸出品となった。

(イ) アメリカとの貿易額が最も多くなり、製糸業が発展し、世界最大の輸出国となった。

(ウ) 貿易が物価の高騰を招き、尊王攘夷運動が高まり朝廷への不満が人々の間に増大していった。

(エ) 貿易が物価の高騰を招き、尊王攘夷運動が高まり正長の土一揆や山城の国一揆が起こった。

問3 写真Aは、薩摩藩出身であり、岩倉使節団に参加した人物である。彼の名前を答えよ。

問4 写真Aは、明治政府内での征韓論争において西郷隆盛らと対立した。その後、その対立は1877年のある戦争へと発展した。この戦争を何というか。

問5 写真Bは、長州藩出身の人物である。内閣制度を整え、初代内閣総理大臣となった彼の名前を答えよ。

問6 写真Bは、1900年にそれまで対立してきた民党の協力を得るために自ら政党を結成した。この政党名を答えよ。

問7 雑誌『明星』を夫とともに創刊した、写真Cの人物の名前を答えよ。

問8 写真Cは、『君死にたまふことなかれ』という反戦詩を残した。この詩の中に登場する彼女の弟は、何という戦争に従軍したか。以下の語群から一つ記号で選べ。

(ア) アヘン戦争 (イ) 日清戦争 (ウ) 日露戦争 (エ) 第一次世界大戦

問9 以下(ア)～(エ)の文を時代順に並べ替えよ。

(ア) 甲午農民戦争をきっかけとして日清戦争が始まり、日本が清に勝利して下関条約を結んだ。

(イ) 盧溝橋事件をきっかけとして日中戦争に突入し、中華民国の蔣介石との対立を深めた。

(ウ) 中国で「扶清滅洋」を唱えた義和団が蜂起し、北京にある各国の公使館を包囲した。

(エ) 関東軍が中国の奉天郊外で柳条湖事件を起こし、これを機に軍事行動を始めた。

2023年度 樟蔭高等学校 入学試験 問題用紙 【社会】

2023年2月10日 実施

解答は解答用紙の所定の欄に記入すること。

[4枚のうち その3]

【5】以下の【 A 】～【 D 】の資料に関する後の問に答えよ。

※各資料末の年代は資料の採択・公布・発布のいずれかの年代を示している。

【 A 】
我々は、以下のことを自明の心理であると信じる。人間はみな平等に創られ、譲り渡すことのできない権利を神によってあたえられていること。その中には、生命・自由・幸福の追求が含まれていること。
(1776年)

【 B 】
第11条 国民は、すべての基本的人権の享有を妨げられない。～中略～国民に保障する基本的人権は、犯すことのできない永久の権利として、現在及び将来の国民に与えられる。(1946)

【 C 】
第151条 経済生活の秩序は、全ての人に人たるに値する(a)生存を保障することを目指す、正義の諸原則に適合するものでなければならない。(1919年)

【 D 】
第1条 人は生まれながらに、(b)自由で平等な権利を持つ。社会的な区別は、ただ公共の利益に関係のある場合にしか、もうけられてはならない。(1789年)

問1 【 A 】～【 D 】の資料として適切なものをそれぞれ記号で選べ。

- (ア) フランス人権宣言 (イ) ワイマール憲法 (ヴァイマル憲法)
(ウ) アメリカ独立宣言 (エ) 日本国憲法

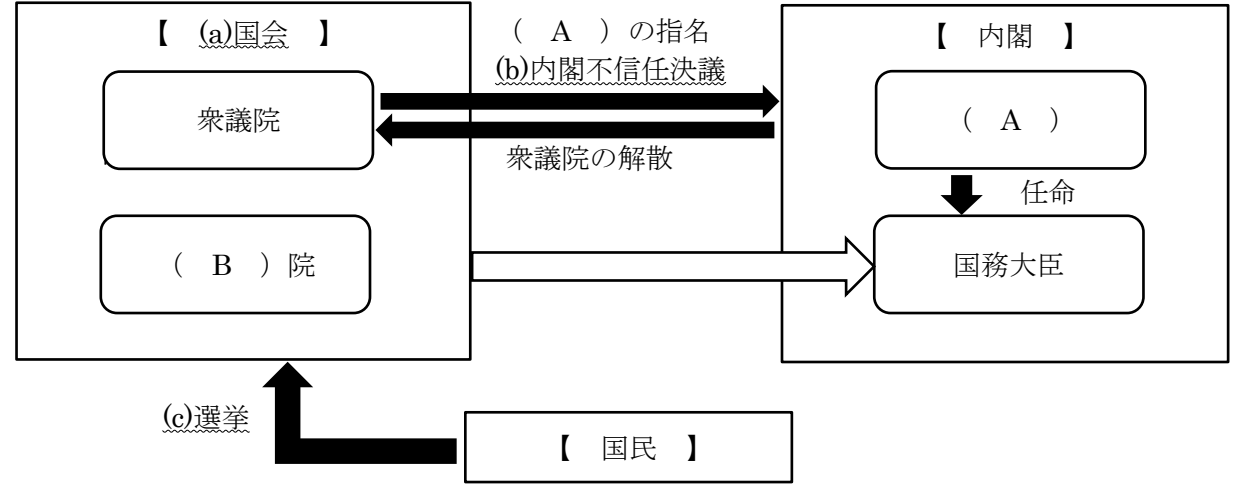
問2 下線部(a)の内容は日本国憲法でも第25条で保障されている。第25条を一部抜粋した以下の条文の空欄に入る語句を答えよ。

「すべて国民は、健康で文化的な()の生活を営む権利を有する。」

問3 下線部(b)に関して、「日本国憲法」で保障されている自由権は、「精神の自由」「身体の自由」「経済活動の自由」の3つに分けることができる。そのうち、「精神の自由」に分類されるものを、以下の語群から記号で二つ選べ。

- (ア) 居住・移転の自由 (イ) 学問の自由 (ウ) 法定手続きの保障
(エ) 財産権 (オ) 信教の自由 (カ) 職業選択の自由

【6】内閣と国会の関係を表した以下の図に関する後の問に答えよ。



問1 図中 (A) (B) に当てはまる語句をそれぞれ漢字で答えよ。

問2 下線部 (a) の種類に関して、毎年1回、1月に召集され、主に次年度予算を審議する国会を何というか答えよ。

問3 下線部 (b) が議決された場合、内閣は「衆議院を解散させる」または (C) の2つのうちどちらかを10日以内に決めなければならない。(C)に入る言葉を答えよ。

問4 下線部 (c) に関して、衆議院の比例代表選挙の結果を表した以下の表を参考にして、□党の獲得議席数を答えよ。この選挙区における定員数は5とする。

政党名	○党	□党	△党
得票数	150票	90票	60票

問5 図中□➡は国务大臣の任命に関するものであり任命には以下のルールがある。空欄 (D) に当てはまる語句を漢字3字で答えよ。

「(国务大臣を任命する際に、) その (D) は、国会議員の中から選ばなければならない」
(第68条)

2023年度 樟蔭高等学校 入学試験 問題用紙 【社会】

2023年2月10日 実施

解答は解答用紙の所定の欄に記入すること。

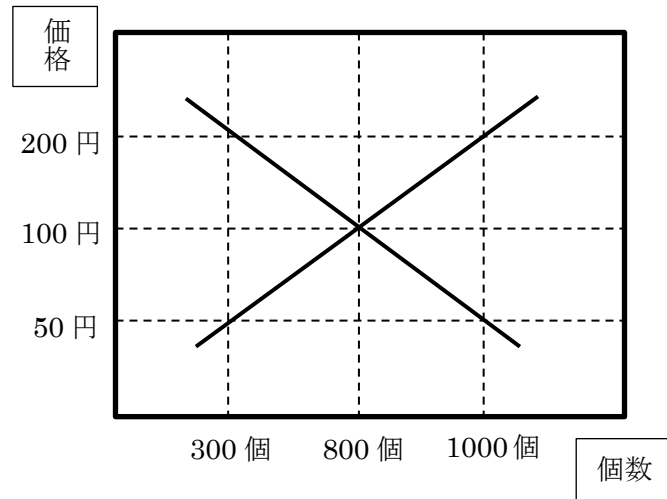
[4枚のうち その4]

【7】以下の各グラフや図に関する後の問に答えよ。

問1 下の表は、日本の社会保障制度を表したものである。空欄(ア)・(イ)に当てはまる語句をそれぞれ漢字4字で答えよ。

社会保障制度の種類	説明	内容例
(ア)	病気・けが・失業・高齢になったときに給付を受ける。	健康保険 国民年金 など
公的扶助	収入が少なく、生活が困難な人々に生活費などを給付する。	生活保護
社会福祉	高齢者・障がいのある人・保育や保護を必要とする子どものいる家庭に保護や援助を行う。	高齢者福祉 児童福祉 など
(イ)	病気の予防や地域社会の衛生状態を改善し、生活の基礎を整える。	予防接種 公害対策 など

問2 右のグラフは、イチゴの取引市場を示している。この市場に関する説明文中の(a)～(d)に当てはまる語句の組み合わせとして最も適切なものを、以下の(ア)～(エ)から一つ記号で選べ。

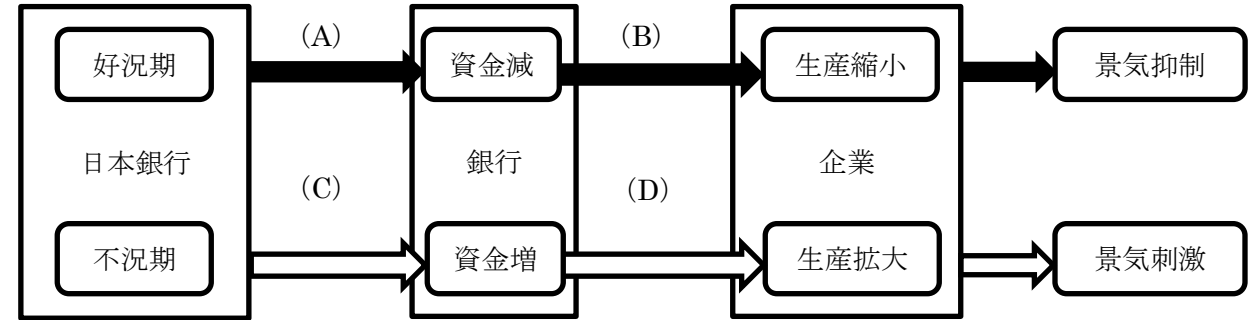


※右の図の「需要曲線」「供給曲線」は直線で図示している。また、それぞれの線の名称は図中には記載していない。

イチゴを1個50円とした場合、(a)個の(b)が生じ、結果としてイチゴの価格は上昇し、1個100円で均衡価格となる。1個200円とした場合は(c)個の(d)が生じるため、イチゴの価格は下落し、1個100円で均衡価格となる。

- (ア) (a) 200 (b) 品不足 (c) 200 (d) 売れ残り
- (イ) (a) 700 (b) 品不足 (c) 700 (d) 売れ残り
- (ウ) (a) 500 (b) 売れ残り (c) 200 (d) 品不足
- (エ) (a) 700 (b) 売れ残り (c) 700 (d) 品不足

問3 以下の図は、公開市場操作(オープンマーケット・オペレーション)の動きを表している。図中(A)～(D)に入るものとして適切なものを、以下の語群からそれぞれ記号で選べ。



- (ア) 貸出増 (イ) 貸出減 (ウ) 国債を買うなど (エ) 国債を売るなど

問4 生産が少数の企業に集中している市場を何というか答えよ。

問5 問4のような市場に関する説明文として誤っているものを、以下の(ア)～(エ)の文から一つ記号で選べ。

- (ア) 企業の公正で自由な競争が維持されない場合がある。そのような状況を防ぐため独占禁止法が制定された。
- (イ) 企業どうしで価格を設定することがあるため、価格は下がりやすい傾向にある。
- (ウ) 企業は価格ではなく、広告やサービスの面で他社と競争することで市場拡大を図る。
- (エ) このような市場状態を防ぐため、公正取引委員会という行政機関が設置されている。