

2022年度 樟蔭中学校 入学試験 問題用紙(A入試) 【社会】

2022年1月15日 実施

解答は解答用紙の所定の欄に記入すること。

[3枚のうち その1]

【1】次の表をみて、問に答えなさい。

①ドイツ	③インド	インドネシア	ペルー	ポーランド
日本	カナダ	④南アフリカ	⑤フランス	チリ
②アルゼンチン	ケニア	カタール	モロッコ	イギリス

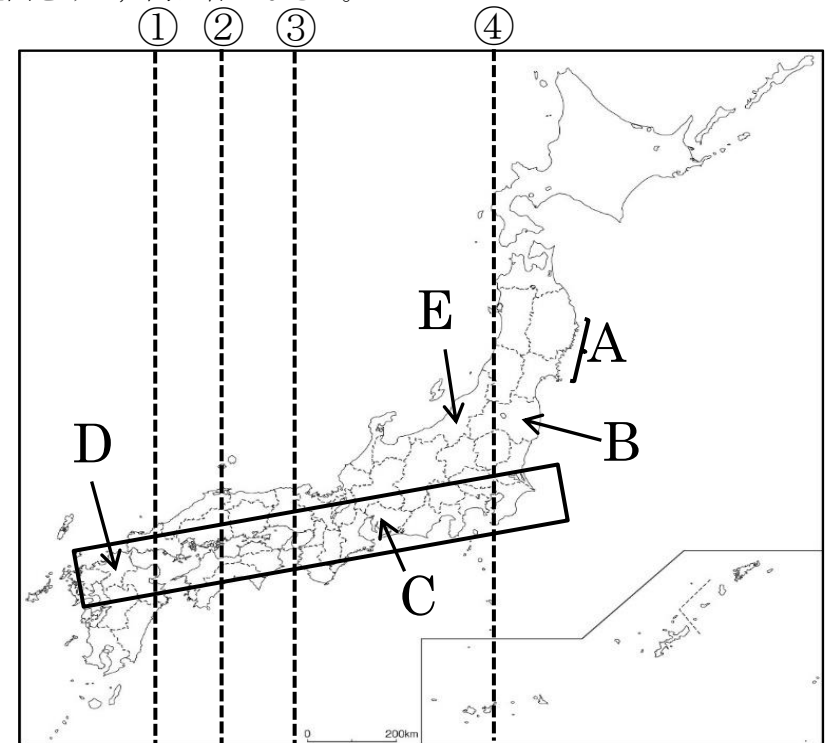
(1) 表の①～⑤の国を地図のア～コから選び、記号で答えなさい。



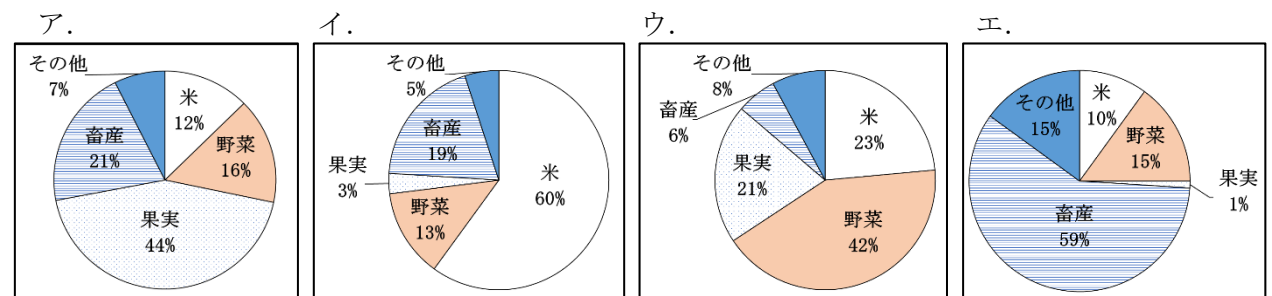
(2) 次の各文は、どこの国のことを表しているか、表を参考にしながら地図のア～コから選び、記号で答えなさい。

- ①この国は、18世紀後半に世界初の産業革命が起こり、「世界の工場」と呼ばれた。近年では、北海油田の開発によって産油国となっている。2016年6月に国民投票が行われ、2020年にEUを正式に離脱した。
- ②この国の東部には、アンデス山脈が連なり、亜鉛・銀などの鉱産資源が豊富にとれる。アンデス山脈では、家畜としてリャマやアルパカを放牧している。マチュピチュ遺跡が世界遺産に登録されている。
- ③この国は、国土面積が世界で2番目に広く、国土の約3分の1が森林でおおわれている。世界有数の木材・パルプの輸出国だが、鉱産資源も豊富にとれる。近年では、機械類の輸出も盛んに行われている。
- ④この国は、約13000の島々からなる島国で米・天然ゴム・パーム油などの世界的生産国となっている。首都がおかれているジャワ島にはASEAN(東南アジア諸国連合)の事務局が置かれている。
- ⑤この国は、赤道直下にあるが、首都は標高が高いため涼しい気候となっている。コーヒーや茶の栽培が盛んで、切り花の輸出も多い。多くの国立公園と動物保護区があり、観光も重要な産業となっている。

【2】次の地図をみて、問に答えなさい。



- (1) Aの海岸では、のこぎり刃のような入り組んだ海岸がみられる。このような地形を何といいますか。
- (2) B・C・Dの県庁所在地は何市か、それぞれ答えなさい。
- (3) 地図の四角で囲われた地域では工業地帯や工業地域が海岸沿いに広がっている。これを何といいますか。
- (4) Eの都道府県について、農業産出額割合のグラフを次のア～エから選び、記号で答えなさい。



(令和元年度 農林水産省 生産農業所得統計)

(5) 日本の標準時子午線である東経135度の経線を地図の①～④から選び、番号で答えなさい。

2022年度 樟蔭中学校 入学試験 問題用紙(A 入試) 【社会】


2022年1月15日 実施

解答は解答用紙の所定の欄に記入すること。

[3枚のうち その2]

【3】次のA～Gの図は各説明文の下線部を表しています。説明文を読んで、問に答えなさい。

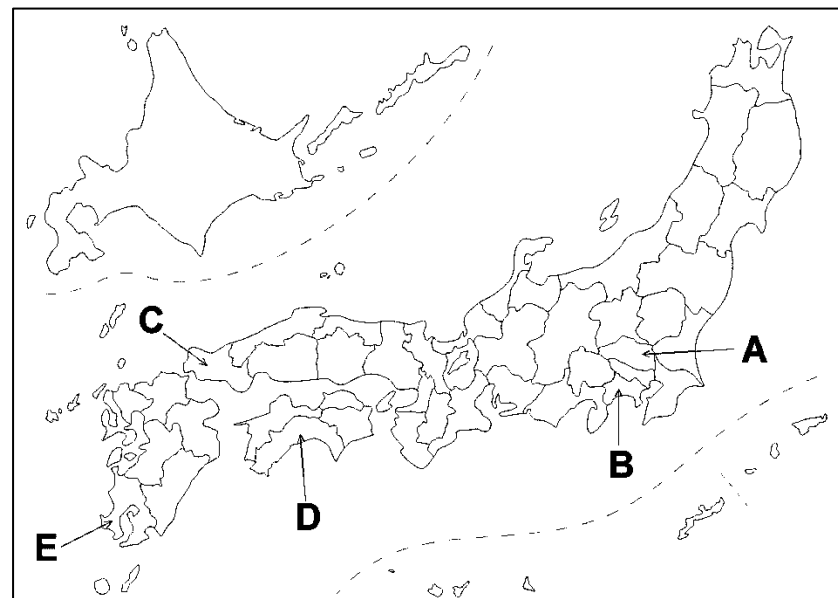
(2)説明文A～Gは、時代順になっています。次の文は、どことどの間でおこったできごとですか。ア～カから選び、記号で答えなさい。



「中国を支配したモンゴル人は国号を元と定め、日本にも従うことを求めてきた。幕府がそれをこばむと、元は2度にわたって九州北部を攻め、御家人たちと戦った。」

ア. AとB イ. BとC ウ. CとD エ. DとE オ. EとF カ. FとG

【4】地図のA～Eの場所に関係の深い人物についての説明文を読んで、人名をア～コから選び、記号で答えなさい。



- A 大阪府堺市にある大仙(大山)古墳は、5世紀中ごろにつくられた日本最大の(①)墳という形の古墳である。大和を中心に力を持っていた大王の力を表している。
- B 法隆寺を建てた聖徳太子がなくなると、蘇我氏が力を伸ばした。(②=後の天智天皇)や中臣鎌足は、645年に蘇我氏をたおして大化の改新を行った。
- C (③)天皇は、都に東大寺を建てて大仏をつくった。これは、仏教の力を借りて人々の不安をはずめ、国を守ろうと考えたからだった。
- D 平安京では、藤原氏などの貴族が寝殿造とよばれる広い屋敷に住んだ。この時代には漢字から(④)文字が生まれ、紫式部の「源氏物語」や清少納言の「枕草子」がうまれた。
- E 室町幕府の3代将軍(⑤)は、各地の守護大名を従え、明との貿易を行って強い権力を持った。京都の北山に建てられた金閣は、その力を表している。
- F 江戸幕府は貿易の相手を、キリスト教を広めるおそれがない(⑥)と中国に限り、貿易港も長崎の出島だけとした。このような状態を鎖国という。
- G 江戸で医師をしていた(⑦)は、(⑥)語で書かれた医学書の人体図を前野良沢らと日本語に翻訳した。そして、3年あまりかかって「解体新書」として出版した。

- A 埼玉県の農家に生まれた彼は、徳川慶喜につかえた時にヨーロッパで学び、帰国した。その後、「第一国立銀行」など多くの会社を設立した。新しい1万円札に肖像が使われる。
- B 東インド艦隊司令長官の彼は、1853年に4隻の軍艦をひきいて浦賀に来航し、江戸幕府に開国を求めた。
- C 長州藩出身の彼は、幕府を倒して天皇を中心とした政府をつくることをめざした。明治政府では、岩倉具視らとアメリカやヨーロッパへの使節団に加わった。
- D 土佐藩出身の彼は、明治政府に対して1874年に意見書を提出した。言論によって国民の自由や政治に参加する権利を求める、自由民権運動の中心となった。
- E 薩摩藩出身の彼は、幕府を倒して天皇を中心とした政府をつくる動きの中心として戦った。後に明治政府を離れ、不満を持つ士族とともに政府軍と戦ってなくなった。

(1) (①)～(⑦)にあてはまることばを答えなさい。

ア. 渋沢栄一 イ. 五代友厚 ウ. 福沢諭吉 エ. 木戸孝允 オ. 板垣退助
 カ. 大久保利通 キ. 西郷隆盛 ク. 坂本龍馬 ケ. ハリス コ. ペリー

2022年度 樟蔭中学校 入学試験 問題用紙(A 入試) 【社会】

2022年1月15日 実施

解答は解答用紙の所定の欄に記入すること。

[3枚のうち その3]

【5】 次の表は 2021 年の秋におこったできごとの一部です。問に答えなさい。

日時	できごと
10月14日	衆議院解散
10月19日	衆議院議員選挙公示
10月31日	衆議院議員選挙・㉑国民審査
11月10日	㉒国会が召集され、首相を指名
11月13日	COP26(㉓国連気候変動枠組み条約第26回締約国会議)がイギリスのグラスゴーにて閉幕

(1) 現在の日本の国会は二院制です。衆議院と何院ですか。

(2) 下線部㉑の対象となる裁判所を何とといいますか。

(3) 下線部㉒について次の問に答えなさい。

①国会の仕事について正しいものをア～エから1つ選び、記号で答えなさい。

- | | |
|----------------------|-------------|
| ア. 天皇の国事行為に助言と承認を与える | イ. 外国と条約を結ぶ |
| ウ. 外国の大使などをもてなす | エ. 国の予算を決める |

②現在の首相はだれですか。あてはまる人名をア～エから選び、記号で答えなさい。

- | | | | |
|----------------------------------|---------------------------------|----------------------------------|----------------------------------|
| ア. <small>あべしんぞう</small>
安倍晋三 | イ. <small>すがよしひで</small>
菅義偉 | ウ. <small>きしだふみお</small>
岸田文雄 | エ. <small>あそうたろう</small>
麻生太郎 |
|----------------------------------|---------------------------------|----------------------------------|----------------------------------|

③内閣総理大臣(首相)の仕事にあてはまらないものをア～エから1つ選び、記号で答えなさい。

- | | |
|-----------------|-------------------|
| ア. 国会で所信表明演説をする | イ. 裁判官を裁く裁判をする |
| ウ. 国務大臣を任命する | エ. 自衛隊の最高指揮監督権を持つ |

(4) 下線部㉓について次の問に答えなさい。

①この会議で石炭火力発電が話題になりました。石炭火力発電の特色をあらわす文をア～エから1つ選び、記号で答えなさい。

- | |
|--|
| ア. 少ない燃料で安定的に大量発電できるが、万一事故が起きた時のリスクが大きいため、安全対策の徹底が必要である。 |
| イ. 世界的に埋蔵量が豊富で安定して調達可能であるが、国際的な資源の獲得競争が激しくなると将来的に調達することが難しくなる。 |
| ウ. 自然エネルギーなので小規模な利用もできるが、天候に影響を受け、大量発電のためには広い面積が必要である。 |
| エ. 資源の運搬・貯蔵が簡単で発電量も調整しやすいが、世界的に資源の埋蔵量が少なく、価格の変動が大きい。 |

②AとBの国際連合(国連)の組織についての説明文をア～エからそれぞれ選び、記号で答えなさい。

A: ユネスコ

B: ユニセフ

- | |
|---|
| ア. 戦争や食糧不足による飢えなど厳しい暮らしをしている地域の子どもたちを助ける目的でつくられた。その活動は民間の寄付金に支えられていて、160以上の国と地域におよんでいる。 |
| イ. 世界の労働者の労働条件の向上や労働問題の解決、生活水準の向上をはかることを目的に設立された。本部はジュネーブにおかれている。 |
| ウ. 教育・文化などの分野で世界の平和につながる活動をしている。文化遺産の修復や保存もその一つである。 |
| エ. 発展途上国への食糧援助や自然災害による被災国への緊急食糧援助などを目的に、1961年に設立された。 |